


کد کنترل

121

A



121A



دفترچه شماره ۲
صبح پنجشنبه

«انگرد دانشگاه اصلاح شود مملکت اصلاح می‌شود.»
امام خمینی (ره)

جمهوری اسلامی ایران
وزارت علوم، تحقیقات و فناوری
سازمان سنجش آموزش کشور

آزمون سراسری ورودی دانشگاه‌های کشور - ۱۴۰۰
گروه آزمایشی علوم ریاضی
آزمون اختصاصی

مدت پاسخ‌گویی: ۱۷۵ دقیقه

تعداد سؤال: ۱۳۵

ردیف	مواد امتحانی	تعداد سؤال	از شماره	تا شماره	مدت پاسخ‌گویی
۱	ریاضیات	۵۵	۱۰۱	۱۵۵	۸۵ دقیقه
۲	فیزیک	۴۵	۱۵۶	۲۰۰	۵۵ دقیقه
۳	شیمی	۳۵	۲۰۱	۲۳۵	۳۵ دقیقه

سال ۱۴۰۰

حق چاپ، تکثیر و انتشار سؤالات به هر روش (الکترونیکی و ...) پس از برگزاری آزمون، برای تمامی اشخاص حقیقی و حقوقی، نینها یا مجوز این سازمان مجاز می‌باشد و یا متخلفان برابر مقررات رفتار می‌شود.

۲۰۱- با توجه به جایگاه عنصرهای A ، M ، E و X در جدول تناوبی و آرایش الکترونی اتم آن‌ها، در کدام گزینه تشکیل هر دو ترکیب، ناممکن است؟

- (۱) MX_3 ، E_3A_3
 (۲) EA ، MX_3
 (۳) EX_3 ، M_3A_3
 (۴) X_3A_3 ، EM

۲۰۲- چند مورد از مطالب زیر درست است؟

- هر زیرلایه با اعداد کوانتومی n و l ، مشخص می‌شود.
- ترتیب پر شدن زیرلایه‌ها، تنها به عدد کوانتومی اصلی وابسته است.
- از رابطه $a = 4l + 2$ ، گنجایش الکترونی زیرلایه‌ها (a) را می‌توان معین کرد.
- در اتم Cu ، نسبت شمار الکترون‌های دارای $l = 0$ به $l = 2$ ، برابر $7/9$ است.

- (۱) ۱ (۲) ۲ (۳) ۳ (۴) ۴

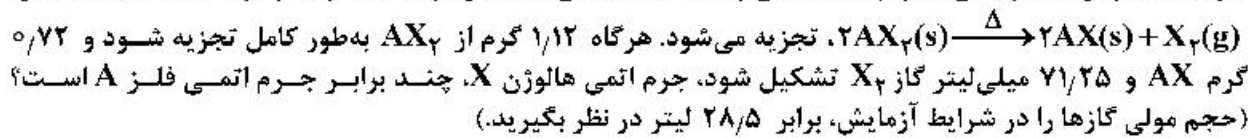
۲۰۳- آرایش الکترونی بیرونی‌ترین زیرلایه یون‌های تک‌اتمی A^{2-} ، D^{3+} و E^{3+} ، به ترتیب به $3p^6$ ، $3p^6$ و $3d^5$ ختم می‌شود. کدام مطلب درباره آن‌ها درست است؟

- (۱) عنصر E در گروه ۷ و عنصر D در گروه ۱۳ جدول تناوبی جای دارند.
 (۲) واکنش‌پذیری عنصرهای E و D ، بیشتر از واکنش‌پذیری فلز قلیایی هم‌دوره آن‌ها است.
 (۳) ویژگی‌های شیمیایی عنصر A ، مشابه عنصر هم‌دوره خود در گروه ۱۸ جدول تناوبی است.
 (۴) عدد اتمی یکی از عنصرهای هم‌گروه عنصر A ، با شماره گروه آن‌ها در جدول تناوبی، یکسان است.
- ۲۰۴- کدام مطالب زیر، درباره عنصر قبل از کریپتون ($36Kr$) در دوره چهارم جدول تناوبی درست است؟

- (آ) با عنصر A ، در جدول تناوبی هم‌گروه است.
 (ب) شعاع اتمی آن از شعاع اتمی عنصر X بزرگتر است.
 (پ) خاصیت نافلزی آن در مقایسه با عنصر M کمتر است.
 (ت) حالت فیزیکی آن با حالت فیزیکی عنصرهای واسطه هم‌دوره خود متفاوت است.
 (ث) شمار الکترون‌های دارای عدد کوانتومی $l = 1$ اتم آن، برابر شماره گروه آن در جدول تناوبی است.

- (۱) آ، ت (۲) ب، پ (۳) آ، ب، ت (۴) پ، ت، ث

۲۰۵- فلز A با هالوژن X ، ترکیبی با فرمول شیمیایی AX_3 تشکیل می‌دهد. این ترکیب بر اثر گرما، مطابق واکنش:



- (۱) $1/15$ (۲) $1/25$ (۳) $1/5$ (۴) $1/75$

۲۰۶- فرمول شیمیایی چند ترکیب یونی زیر، درست است؟

- Mg_3N_3 : منیزیم نیتريد
- Cu_3S : مس (II) سولفید
- $Ba(CN)_3$: باریم سیانید
- $GaCl_3$: گالیم کلريد
- کبالت (III) سولفات: $CO_3(SO_4)_3$
- روی فسفات: $Zn_3(PO_4)_3$

- (۱) ۳ (۲) ۴ (۳) ۵ (۴) ۶

۲۰۷- اتم‌های موجود در یک مکعب به ابعاد ۴ سانتی‌متر از فلز منگنز، به تقریب دارای چند مول الکترون ظرفیتی است؟

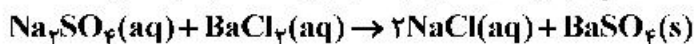
- (جرم هر سانتی‌متر مکعب از فلز منگنز را برابر $7/5$ گرم در نظر بگیرید. $35Mn = 55 \text{ g.mol}^{-1}$)
- (۱) $57/5$ (۲) $61/1$ (۳) $65/8$ (۴) $67/2$

۲۰۸- کدام موارد از مطالب زیر، درست است؟

- (آ) در مواد مولکولی ناقطبی با افزایش جرم مولی، نیروهای بین مولکولی افزایش می‌یابد.
 (ب) با این که جرم مولی گازهای N_2 و CO برابر است، CO زودتر از N_2 به مایع تبدیل می‌شود.
 (پ) آب و هیدروژن سولفید، هر دو مولکول‌های خمیده، قطبی و نقطه جوش نزدیک به یکدیگر دارند.
 (ت) چون جرم مولی F_2 از جرم مولی HCl بیشتر است، نقطه جوش آن از نقطه جوش HCl بالاتر است.

(۱) آ، ب (۲) آ، ت (۳) ب، پ (۴) ب، ت

۲۰۹- یک نمونه ناخالص، دارای ۸۸ درصد جرمی Na_2SO_4 و ۱۰ درصد جرمی آب است. بر اثر جذب رطوبت، مقدار آب آن به ۲۰ درصد می‌رسد. درصد جرمی تقریبی این نمک در شرایط جدید کدام است و اگر جرم نمونه اولیه $35/5$ گرم باشد، از واکنش کامل آن با باریم کلرید، چند گرم ماده نامحلول در آب تشکیل می‌شود؟ (گزینه‌ها را از راست به چپ بخوانید. ناخالصی با $BaCl_2(aq)$ واکنش نمی‌دهد. $O = 16, Na = 23, S = 32, Ba = 137 : g.mol^{-1}$)



(۱) $51/26, 78/2$ (۲) $51/26, 74/9$

(۳) $85/22, 78/2$ (۴) $85/22, 74/9$

۲۱۰- با توجه به قاعده هشتایی، ساختار لوویس کدام مولکول‌های زیر، درست است؟

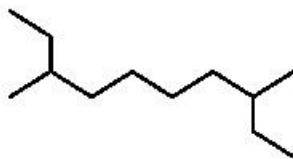


(۱) آ، ب (۲) ب، پ (۳) آ، ت (۴) پ، ت

۲۱۱- معادله «انحلال پذیری - دما» برای نمک A در آب به صورت: $S = 0.97\theta + 35$ است. اگر نسبت انحلال پذیری نمک A به نمک B در دماهای $0^\circ C$ و $40^\circ C$ به ترتیب برابر ۱ و $2/46$ باشد، نسبت غلظت مولار محلول سیرشده B به غلظت مولار محلول سیرشده A در دمای $50^\circ C$ ، به تقریب کدام است؟ (جرم مولی نمک A و B به ترتیب برابر 330 و 110 گرم در نظر گرفته شود؛ از تغییر حجم آب در اثر حل کردن نمک، چشم‌پوشی شود؛ معادله «انحلال پذیری - دما» در آب برای نمک B به صورت خطی است).

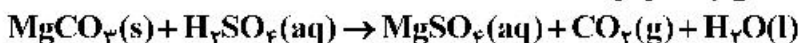
(۱) $0/69$ (۲) $1/03$ (۳) $1/65$ (۴) $2/51$

۲۱۲- کدام موارد از مطالب زیر، درباره آلکانی با فرمول «پیوند - خط» روبه‌رو درست است؟ ($H = 1, C = 12 : g.mol^{-1}$)



(آ) نام آن ۲-اتیل-۷-متیل نونان است.
 (ب) جرم مولی آن، برابر جرم مولی پروپین است.
 (پ) فرمول مولکولی آن با فرمول مولکولی ۳-اتیل‌دکان، یکسان است.
 (ت) شمار گروه‌های CH_3 در مولکول آن، $1/5$ برابر شمار گروه‌های CH_2 است.

۲۱۳- 10 میلی‌لیتر محلول سولفوریک اسید با 210 میلی‌گرم منیزیم کربنات واکنش کامل می‌دهد. جرم اسید در 100 میلی‌لیتر محلول آن، چند گرم و غلظت آن چند مولار است؟



(گزینه‌ها را از راست به چپ بخوانید. $H = 1, C = 12, O = 16, Mg = 24, S = 32 : g.mol^{-1}$)

(۱) $0/25, 2/45$ (۲) $0/50, 2/45$ (۳) $0/25, 4/9$ (۴) $0/50, 4/9$

۲۱۴- چند مورد از مطالب زیر، درست است؟ ($H = 1, C = 12, Br = 80 : g.mol^{-1}$)

- گاز متان، سنگ بنای صنایع پتروشیمی است.
- 0.25 مول از هر آلکن، با 40 گرم برم، واکنش کامل می‌دهد.
- در مولکول آلکن‌ها، دو اتم کربن وجود دارد که هر یک، به سه اتم دیگر متصل‌اند.
- جرم مولی دومین عضو خانواده آلکان‌ها، 0.75 جرم مولی دومین عضو خانواده آلکین‌هاست.

(۱) ۱ (۲) ۲ (۳) ۳ (۴) ۴

۲۱۵- مراحل انجام یک واکنش کلی عبارت‌اند از:

- ۱) $2NO(g) \rightarrow N_2O_2(g)$
- ۲) $2H_2(g) \rightarrow 4H(g)$
- ۳) $N_2O_2(g) + H(g) \rightarrow N_2O(g) + HO(g)$
- ۴) $2HO(g) + 2H(g) \rightarrow 2H_2O(g)$
- ۵) $H(g) + N_2O(g) \rightarrow HO(g) + N_2(g)$

ΔH این واکنش کلی برابر چند کیلوژول است؟ (آنتالپی پیوندهای $N \equiv N$ ، $N = O$ ، $H - H$ و میانگین آنتالپی پیوند $H - O$ ، به ترتیب برابر 944 ، 436 ، 436 و 607 و 463 کیلوژول است.)

(۱) -216 (۲) $+216$ (۳) $+710$ (۴) -710

۲۱۶- با توجه به جدول زیر، که به بخشی از جدول تناوبی مربوط است، چند مورد از مطالب زیر، درست است؟

گروه \ دوره	۱	۲	۱۶	۱۷
۲		A	D	
۳	E		G	
۴		X		Z

(۱) ۱ (۲) ۲ (۳) ۳ (۴) ۴

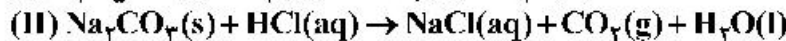
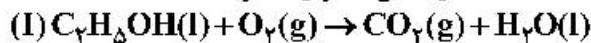
۲۱۷- اگر $24/6$ کیلوژول گرما به 0.5 کیلوگرم اتانول داده شود و دمای آن از $19^\circ C$ به $39^\circ C$ افزایش یابد، گرمای ویژه آن برابر چند $J.g^{-1}.^\circ C^{-1}$ است و با همین مقدار گرمای داده شده به اتانول، به تقریب چند گرم گاز اکسیژن را می‌توان در شرایط مناسب به اوزون تبدیل کرد؟ (ΔH واکنش این تبدیل را $295 kJ$ در نظر بگیرید،

$O = 16 g.mol^{-1}$)

(۱) $8700, 24/6$ (۲) $8700, 24/6$

(۳) $2700, 24/6$ (۴) $2700, 24/6$

۲۱۸- درباره دو واکنش داده شده، چند مورد از مطالب زیر، درست است؟ (معادله واکنش‌ها موازنه شود.)

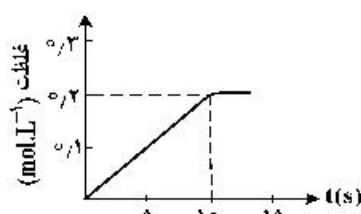


- مطابق واکنش I، از سوختن یک مول اتانول، $44/8$ لیتر گاز در شرایط STP تولید می‌شود.
- اگر از واکنش $7/5$ مول اسید، $60/75$ گرم آب تشکیل شود، بازده واکنش برابر 90 درصد است.
- به ازای جرم برابر از واکنش‌دهنده کربن‌دار، نسبت مولی CO_2 در واکنش I به واکنش II، برابر $4/6$ است.
- اگر از واکنش 100 گرم Na_2CO_3 ناخالص، $1/5$ مول نمک تشکیل شود، درصد خلوص آن، برابر $79/5$ است.

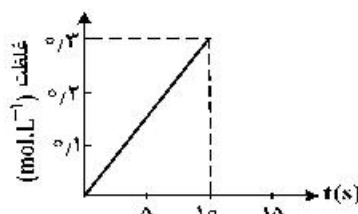
($H = 1, C = 12, O = 16, Na = 23 : g.mol^{-1}$)

(۱) ۱ (۲) ۲ (۳) ۳ (۴) ۴

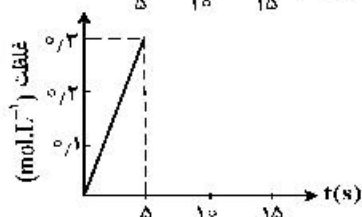
۲۱۹- اگر ۱ مول KClO_3 در گرما و در مجاورت کاتالیزگر در یک ظرف ۵ لیتری، با سرعت ثابت 0.1 mol.s^{-1} ، مطابق واکنش: $2\text{KClO}_3(\text{s}) \rightarrow 2\text{KCl}(\text{s}) + 3\text{O}_2(\text{g})$ ، تجزیه شود، واکنش پس از چند ثانیه کامل می‌شود و نمودار تغییرات غلظت مولار O_2 نسبت به زمان، به کدام صورت است؟



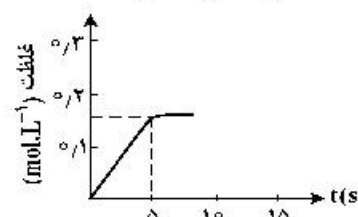
(۲) ۰.۱



(۱) ۰.۱



(۴) ۰.۵



(۳) ۰.۵

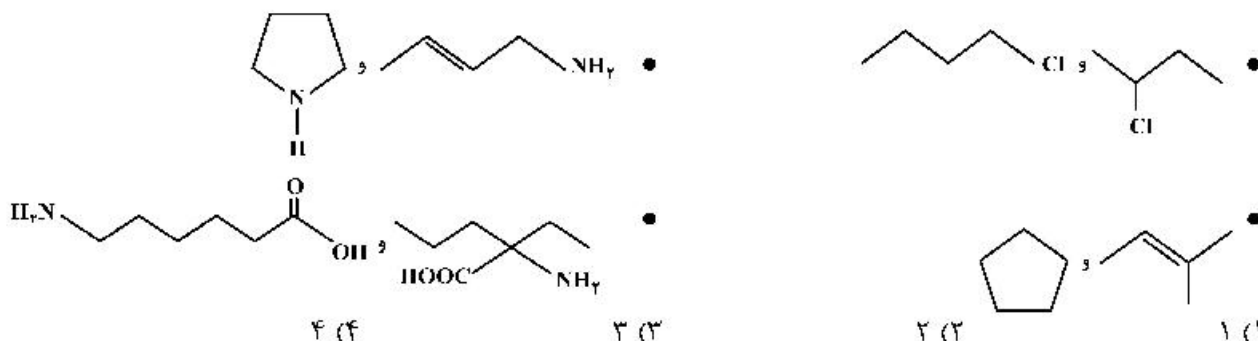
۲۲۰- کدام موارد از مطالب زیر، درست است؟

(آ) فرمول عمومی پلی‌استرها، $\text{C}-\overset{\text{O}}{\parallel}-\overset{\text{O}}{\parallel}-\text{O}-\text{R}-\text{O}-\text{C} + \text{H}_2\text{O}$ است.

(ب) نسبت شمار جفت الکترون‌های ناپیوندی به پیوندی در ساختار مونومر سازنده تفلون، برابر ۲ است.
 (پ) ناخن و پوست بدن، از پلیمرهای طبیعی با گروه‌های عاملی دارای اتم‌های C، O و N تشکیل شده‌اند.
 (ت) میانگین جرم مولی پلی‌اتن حاصل از پلیمری شدن اتن، مستقل از مقدار کاتالیزگر مورد استفاده است.

(۱) آ، ب (۲) آ، ت (۳) ب، پ (۴) پ، ت

۲۲۱- در چند مورد زیر، دو ترکیب با یکدیگر همپارند؟



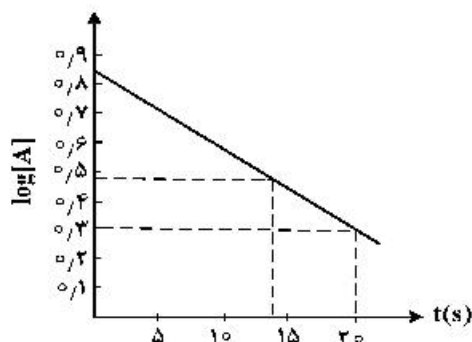
(۴) ۴

(۳) ۳

(۲) ۲

(۱) ۱

۲۲۲- با توجه به نمودار زیر، که تغییرات لگاریتم غلظت مولار A را در یک واکنش فرضی در دمای معین نشان می‌دهد، اگر ضریب استوکیومتری A در معادله واکنش، برابر ۲ باشد، نسبت سرعت واکنش در ۲۰ ثانیه آغازی به سرعت متوسط مصرف A در بازه زمانی ۱۳ تا ۲۰ ثانیه، کدام است؟



(۱) ۰.۳۷۴

(۲) ۰.۴۲۷

(۳) ۰.۷۸۵

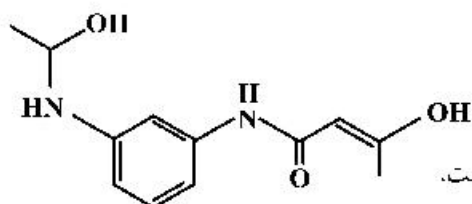
(۴) ۰.۸۷۵

۲۲۳- دربارهٔ محلول هیدروکلریک اسید (محلول I) و محلول هیدروفلوئوریک اسید (محلول II) با حجم، دما و pH یکسان، چند مورد از مطالب زیر، درست است؟

- شمار مول‌های آغازی دو اسید، برای تشکیل دو محلول، ناهم‌باز است.
- شمار مولکول‌ها در محلول II، از شمار مولکول‌ها در محلول I بیشتر است.
- شمار آنیون‌های حاصل از یونش دو اسید و رسانایی الکتریکی دو محلول برابر است.
- مجموع شمار گونه‌های موجود در محلول I، از مجموع شمار گونه‌های موجود در محلول II، کمتر است.

(۱) ۱ (۲) ۲ (۳) ۳ (۴) ۴

۲۲۴- دربارهٔ مولکول فرضی با ساختار زیر، کدام مطلب درست است؟



- (۱) شمار اتم‌های کربن در آن، ۴/۵ برابر شمار اتم‌های اکسیژن است.
 (۲) دارای گروه عاملی هیدروکسیل و واحد تکرار شوندهٔ تشکیل پلی‌آمید است.
 (۳) شمار پیوندهای یگانه بین اتم‌های آن، ۵/۴ برابر شمار پیوندهای دوگانه بین آن‌ها است.
 (۴) شمار اتم‌های هیدروژن، ۱/۲۵ برابر شمار جفت الکترون‌های ناپیوندی روی اتم‌ها در آن است.

۲۲۵- کدام موارد از مطالب زیر، درست است؟

- (آ) شربت معده و شیر، مخلوط‌هایی ناهمگن از نوع سوسپانسیون‌اند.
 (ب) مخلوط آب و روغن با استفاده از صابون، به یک کلئوئید پایدار تبدیل می‌شود.
 (پ) پخش کردن نور، ناهمگن بودن و ته‌نشین شدن، از ویژگی‌های کلئوئیدها، به شمار می‌آید.
 (ت) ذرات سازندهٔ محلول‌ها، یون‌ها و مولکول‌ها اما ذرات سازندهٔ کلئوئیدها، توده‌های مولکولی‌اند.
- (۱) آ، پ (۲) آ، ب، پ (۳) ب، ت (۴) ب، پ، ت

۲۲۶- با توجه به نقشه‌های پتانسیل الکتروستاتیکی پروپان و دی‌متیل‌اتر، کدام مطلب درست است؟

- (۱) تبدیل پروپان به مایع، دشوارتر است.
 (۲) در هر دو، اتم مرکزی بار جزئی مثبت دارد.
 (۳) نقشه‌های پتانسیل الکتروستاتیکی مشابهی دارند.
 (۴) هر دو در میدان الکتریکی به یک‌سو جهت‌گیری می‌کنند.
- ۲۲۷- اگر در دمای اتاق، به ۱۲۵ میلی‌لیتر آب مقطر، ۷/۰ گرم پتاسیم هیدروکسید اضافه شود، چند مورد از مطالب زیر، دربارهٔ محلول حاصل، درست است؟ ($H = 1, O = 16, K = 39; \text{g.mol}^{-1}$)، از تغییر حجم محلول بر اثر اضافه کردن مادهٔ جامد به آن، چشم‌پوشی شود.

- ۲۵۰ میلی‌لیتر از آن، $2,5 \times 10^{-2}$ مول HCl را به‌طور کامل خنثی می‌کند.
- غلظت مولار یون $\text{OH}^- (\text{aq})$ در آن، 10^{12} برابر غلظت مولار یون $\text{H}^+ (\text{aq})$ است.
- در ۵۰ میلی‌لیتر از این محلول، در مجموع، ۰/۰۱ مول از کاتیون و آنیون وجود دارد.
- اگر به این محلول، ۱/۴ گرم پتاسیم هیدروکسید دیگر اضافه شود، $[\text{OH}^-]$ ، ۳ برابر خواهد شد.

(۱) ۱ (۲) ۲ (۳) ۳ (۴) ۴

۲۲۸- محلول اسیدهای ضعیف HA و HD، به ترتیب با درصد یونش ۱۲ و ۲/۵ و با pH برابر، در دو ظرف جداگانه موجود است. نسبت [HD] به [HA] پیش از یونش، کدام و اگر [HA] برابر 0.005 mol.L^{-1} باشد، pH محلول دو اسید، کدام است؟ (گزینه‌ها را از راست به چپ بخوانید)

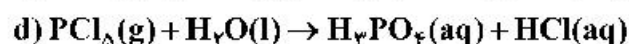
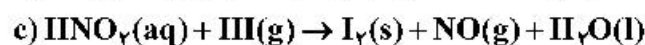
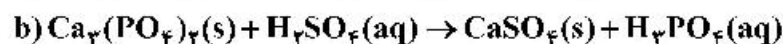
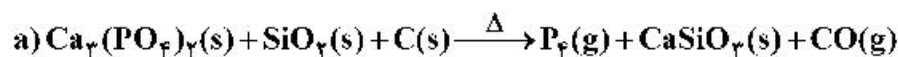
- (۱) ۴/۸ ، ۳/۲۲
 (۲) ۴/۸ ، ۳/۹۱
 (۳) ۵/۶ ، ۳/۲۲
 (۴) ۵/۶ ، ۳/۹۱

۲۲۹- چند مورد از مطالب زیر، درست است؟

- یکی از معایب فرایند هال، انتشار گاز گلخانه‌ای است.
- آلومینیم، یک فلز فعال و اکسید آن، چسبنده و متراکم است.
- در سلول الکترولیتی، کاتد و آنده می‌توانند از یک جنس باشند.
- قوی‌ترین عنصرهای اکسنده، در سمت راست جدول تناوبی، جای دارند.
- از کاربردهای برق‌کافت، استخراج فلزاتی مانند آلومینیم و تهیه گازهایی مانند هیدروژن است.

- (۱) ۲ (۲) ۳ (۳) ۴ (۴) ۵

۲۳۰- تفاوت مجموع ضریب‌های استوکیومتری مواد در معادله واکنش‌های a و d پس از موازنه آن‌ها کدام است و چند واکنش از نوع اکسایش - کاهش است؟



- (۱) ۲ ، ۱۴ (۲) ۲ ، ۲۴ (۳) ۳ ، ۱۴ (۴) ۳ ، ۲۴

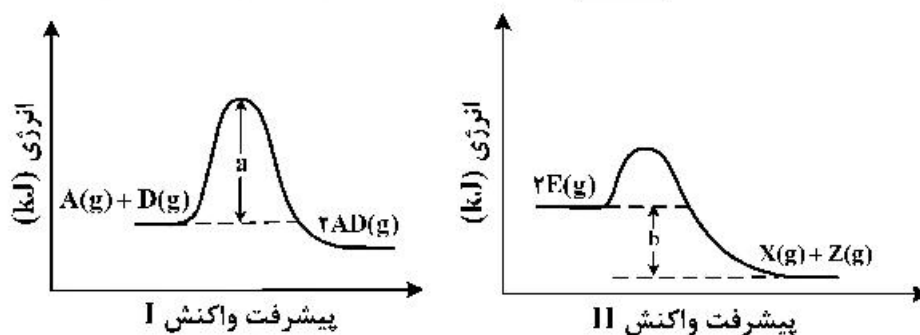
۲۳۱- چند مورد از مطالب زیر درست است؟

$$E^\circ[\text{Mn}^{2+}(\text{aq})/\text{Mn}(\text{s})] = -1.18\text{V} , E^\circ[\text{Pt}^{2+}(\text{aq})/\text{Pt}(\text{s})] = +1.20\text{V}$$

- اکسایش هیدروژن در سلول سوختی، بازدهی نزدیک به ۶۰ درصد دارد.
- در واکنش انجام شده در سلول‌های گالوانی، فرآورده‌ها از واکنش‌دهنده‌ها پایدارترند.
- در سلول گالوانی «منگنز - پلاتین»، در الکتروود منگنز، عمل اکسایش انجام می‌گیرد.
- در هر واکنش اکسایش - کاهش، اتم‌های فلزی اکسایش و یون‌های فلزی کاهش می‌یابند.

- (۱) ۱ (۲) ۲ (۳) ۳ (۴) ۴

۲۳۲- با توجه به نمودارهای زیر، کدام مطلب نادرست است؟ (در محورهای عمودی نمودارها، مقیاس یکسان است.)



(۱) در صورت تأمین a kJ انرژی، هر دو واکنش I و II انجام پذیرند.

(۲) گرمایی که به ازای مصرف ۱ مول $E(g)$ آزاد می‌شود، برابر $\frac{b}{4}$ kJ است.

(۳) در واکنش II، در مقایسه با واکنش I، فراورده(ها) نسبت به واکنش‌دهنده(ها)، پایدارترند.

(۴) گرمای آزاد شده به ازای تشکیل ۲ مول $AD(g)$ ، از گرمای آزاد شده به ازای تشکیل یک مول $X(g)$ بیشتر است.

۲۳۳- نسبت شمار آنیون به کاتیون در چند ترکیب زیر، برابر نسبت شمار آنیون به کاتیون در کروم(III) سولفید است؟

- کلسیم فسفات
- اسکاندیم اکسید
- آلومینیم سولفات
- گالیم کربنات
- روی سیلیکات
- آهن(III) نیترات

(۱) ۲ (۲) ۳ (۳) ۴ (۴) ۵

۲۳۴- شکل (آ) مخلوط در حال تعادل را برای واکنش: $X_2(g) + Y_2(g) \rightleftharpoons 2Z(g)$ ، نشان می‌دهد. هنگامی که واکنش در

شکل (ب) به تعادل برسد، به ترتیب از راست به چپ، چند مول از گازهای X_2 ، Y_2 و Z در ظرف واکنش وجود

خواهد داشت؟ (هر ذره، نشان‌دهنده 0.1 مول و حجم ظرف‌های واکنش، برابر $2/25$ لیتر و دما ثابت است.)

(آ)

(ب)

X_2 : ∞

Y_2 : ∞

Z : ∞

(۱) $0.4, 0.4, 0.1$

(۲) $0.1, 0.4, 0.1$

(۳) $0.3, 0.3, 0.2$

(۴) $0.2, 0.3, 0.2$

۲۳۵- کدام مطلب درست است؟

(۱) ترفتالیک اسید، اسیدی دو عاملی است که در تهیه پلیمر PFT مصرف دارد.

(۲) در شرایط مشابه، انحلال‌پذیری ترفتالیک اسید در آب، کمتر از پارازایلن است.

(۳) بنزن، اتیلن‌گلیکول و گازوئیل، از فرایند تقطیر نفت خام به دست می‌آیند.

(۴) زنجیره مولکولی پلی‌پروپن، مانند پلی‌اتن بدون شاخه، است.

خانه شیمی ایران



khaneshimi_ir